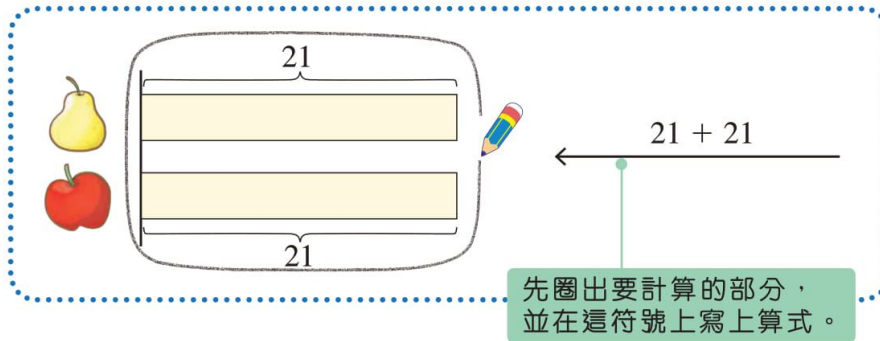




我們可以運用這個棒條圖幫助回答問題。



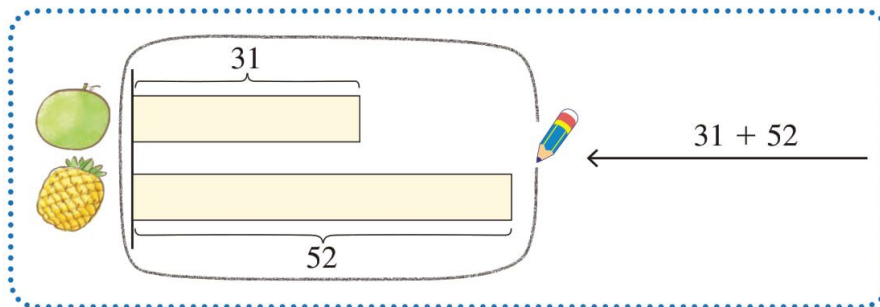
$$21 + 21$$

$$= \underline{\quad 42 \quad}$$

$$\begin{array}{r} 21 \\ + 21 \\ \hline 42 \end{array}$$

她共買了水果 42 個。

3. 水果店有 31 個和 52 個，水果店共有 和 多少個？



$$31 + 52$$

$$= \underline{\quad 83 \quad}$$

$$\begin{array}{r} 31 \\ + 52 \\ \hline 83 \end{array}$$

水果店共有 和 83 個。

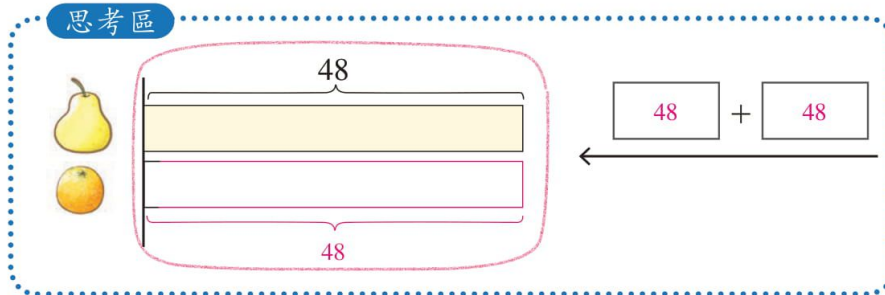






 **做一做**

在思考區內畫圖表達下列各題，並寫上相關的算式。

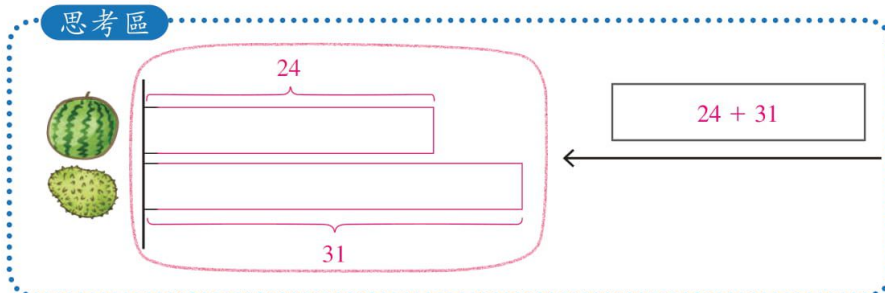
- 1 廚師到水果店買了  48個和  48個，他共買了  和  多少個？




思考區



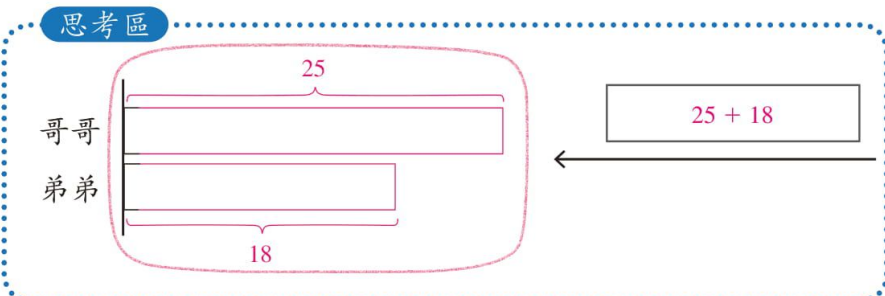
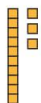
- 2 水果店有  24個和  31個，水果店共有  和  多少個？

思考區





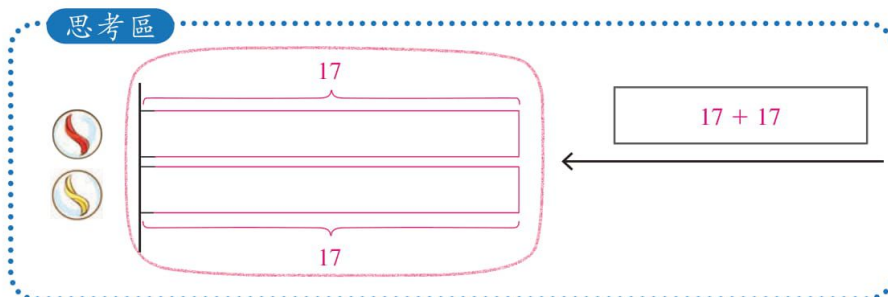
- 3 哥哥有  25輛，弟弟有  18輛，二人共有  多少輛？

思考區

在思考區內畫圖表示下列各題，在圖中圈出題目要求計算的部分，並計算各題。

- 4 弟弟有  和  各 17 粒，弟弟共有波子多少粒？



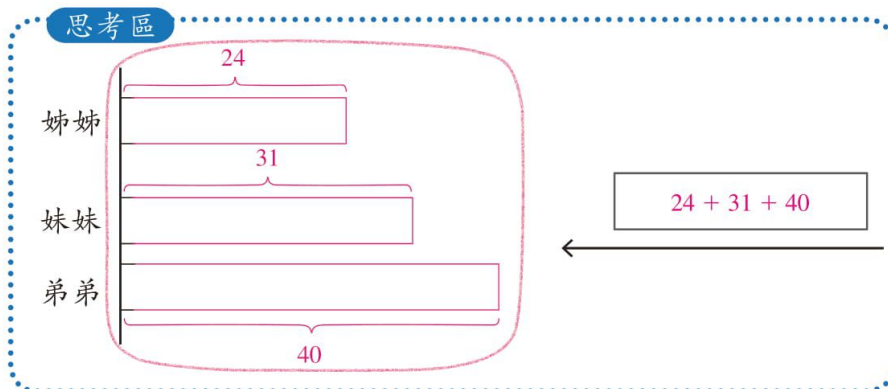
$$\begin{array}{r} 17 + 17 \\ \hline = 34 \end{array}$$

弟弟共有波子 34 粒。

直式：

$$\begin{array}{r} 17 \\ + 17 \\ \hline 34 \end{array}$$

- 5 姊姊有  24 塊，妹妹有  31 塊，弟弟有  40 塊，三人共有  多少塊？



$$\begin{array}{r} 24 + 31 + 40 \\ \hline = 55 + 40 \\ \hline = 95 \end{array}$$

三人共有  95 塊。

$$\begin{array}{r} 24 \\ + 31 \\ \hline 55 \\ + 40 \\ \hline 95 \end{array}$$